



## Elastische Strukturen – 1. Übung

### Rechenregeln für Matrizen

Man mache sich folgende Rechenregeln für reelle Matrizen klar!

**A, B, C** ... Matrizen  
**I** ... Einheitsmatrix  
 $\alpha, \beta$  ... Zahlen

Kommutativität	$\alpha \mathbf{A} = \mathbf{A} \alpha$ $\mathbf{I} \mathbf{A} = \mathbf{A} \mathbf{I} = \mathbf{A} \quad (1)$ $\mathbf{A} + \mathbf{B} = \mathbf{B} + \mathbf{A}$ $\mathbf{A} \mathbf{B} \neq \mathbf{B} \mathbf{A} \text{ i.a.} \quad (2)$
Assoziativität	$(\alpha \beta) \mathbf{A} = \alpha (\beta \mathbf{A})$ $(\mathbf{A} + \mathbf{B}) + \mathbf{C} = \mathbf{A} + (\mathbf{B} + \mathbf{C})$ $(\mathbf{A} \mathbf{B}) \mathbf{C} = \mathbf{A} (\mathbf{B} \mathbf{C}) \quad (3)$
Distributivität	$(\alpha + \beta) \mathbf{A} = \alpha \mathbf{A} + \beta \mathbf{A}$ $\alpha (\mathbf{A} + \mathbf{B}) = \alpha \mathbf{A} + \alpha \mathbf{B} \quad (4)$ $(\mathbf{A} + \mathbf{B}) \mathbf{C} = \mathbf{A} \mathbf{C} + \mathbf{B} \mathbf{C}$ $\mathbf{C} (\mathbf{A} + \mathbf{B}) = \mathbf{C} \mathbf{A} + \mathbf{C} \mathbf{B} \quad (5)$
Transponierung	$(\mathbf{A} + \mathbf{B})^T = \mathbf{A}^T + \mathbf{B}^T$ $(\mathbf{A} \mathbf{B})^T = \mathbf{B}^T \mathbf{A}^T \quad (6)$ $(\mathbf{A}^T)^T = \mathbf{A} \quad (7)$

Für quadratische Matrizen gilt:

Inversion ( $\mathbf{A}, \mathbf{B}$ regulär)	$\mathbf{A}\mathbf{A}^{-1} = \mathbf{A}^{-1}\mathbf{A} = \mathbf{I}$ $(\mathbf{A}\mathbf{B})^{-1} = \mathbf{B}^{-1}\mathbf{A}^{-1}$ $(\mathbf{A}^T)^{-1} = (\mathbf{A}^{-1})^T$
Potenzen	$\mathbf{A}^n = \mathbf{A}\mathbf{A} \dots \mathbf{A}; n > 0, \text{ ganzzahlig}$ $\mathbf{A}^0 = \mathbf{I}; \mathbf{A} \text{ regulär}$ $\mathbf{A}^{-n} = (\mathbf{A}^{-1})^n; n > 0, \text{ ganzzahlig, } \mathbf{A} \text{ regulär}$ $\mathbf{A}^{n+m} = \mathbf{A}^n \mathbf{A}^m; n, m \text{ ganzzahlig}$
Determinanten	$ \mathbf{A}\mathbf{B}  =  \mathbf{A}   \mathbf{B} $
Orthogonalmatrix	$\mathbf{A}^T = \mathbf{A}^{-1}$ $ \mathbf{A}  = \pm 1$ $ \mathbf{A}  = +1, \text{ eigentlich orthogonal}$

### Symbolische und Indexschreibweise

	Symbolische Schreibweise	Indexschreibweise
Vektor	$\mathbf{a}$	$a_i$
Skalarprodukt zweier Vektoren	$\mathbf{a}^T \mathbf{b} = \mathbf{b}^T \mathbf{a}$	$\sum_i a_i b_i = a_i b_i = b_i a_i$
Matrix	$\mathbf{A}$	$A_{ij}$
Einheitsmatrix	$\mathbf{I}$	$\delta_{ij} = \begin{cases} 1 & \dots & i = j \\ 0 & \dots & i \neq j \end{cases}$
Matrizenmultiplikation	$\mathbf{A}\mathbf{B} = \mathbf{C}$	$\sum_k A_{ik} B_{kl} = A_{ik} B_{kl} = A_{im} B_{ml} = C_{il}$
Transponieren einer Matrix	$\mathbf{A}^T$	$(A_{ij})^T = A_{ji}$

### Aufgabe 1

Man stelle die Ausdrücke (1) bis (7) mit Hilfe der Indexschreibweise dar!

### Aufgabe 2

Man bestimme die Eigenwerte und -vektoren der symmetrischen Matrix:

$$\mathbf{A} = \begin{pmatrix} 2 & 0 & -3 \\ 0 & 2 & \sqrt{3} \\ -3 & \sqrt{3} & -2 \end{pmatrix}$$

Hinweis: Die Eigenwerte  $\lambda_{(i)}$ , ( $i = 1,2,3$ ) folgen aus der Gleichung

$$|\mathbf{A} - \lambda\mathbf{I}| = 0$$

und die zum Eigenwert  $\lambda_{(i)}$  gehörenden Eigenvektoren  $\mathbf{b}_{(i)}$  aus

$$(\mathbf{A} - \lambda_{(i)}\mathbf{I}) \mathbf{b}_{(i)} = \mathbf{0}.$$

Man zeige weiterhin, dass für  $|\mathbf{b}_{(i)}| = 1$  die Matrix  $\mathbf{Q} = (\mathbf{b}_{(1)} \mathbf{b}_{(2)} \mathbf{b}_{(3)})$  eine eigentlich orthogonale Matrix ist und aus  $\mathbf{A}$  durch

$$\mathbf{D} = \mathbf{Q}^T \mathbf{A} \mathbf{Q}$$

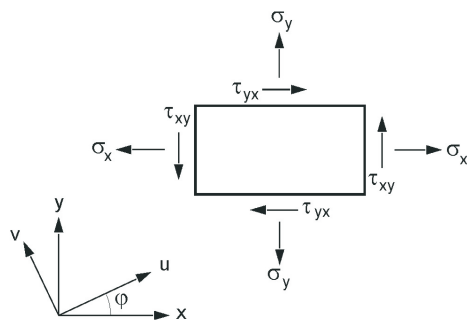
die Diagonalmatrix

$$\mathbf{D} = \begin{pmatrix} \lambda_{(1)} & 0 & 0 \\ 0 & \lambda_{(2)} & 0 \\ 0 & 0 & \lambda_{(3)} \end{pmatrix}$$

gewonnen werden kann.

### Aufgabe 3

Blech mit ebenem Spannungszustand



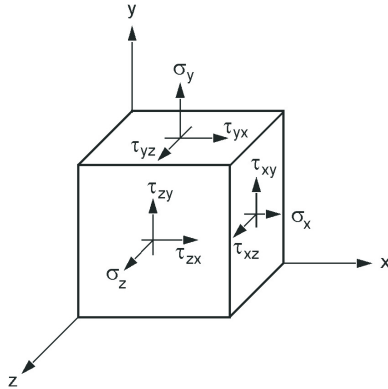
Geg.:  $\sigma_x = -20 \text{ MPa}$   
 $\sigma_y = 60 \text{ MPa}$   
 $\tau_{xy} = -30 \text{ MPa}$

Ges.: Hauptspannungen und Richtungen der Hauptspannungen

Zur Kontrolle benutze man die Transformationsgleichungen für  $\sigma$  beim Übergang vom  $x, y$ -Bezugssystem auf das  $u, v$ -Bezugssystem

### Aufgabe 4

Räumlicher Spannungszustand

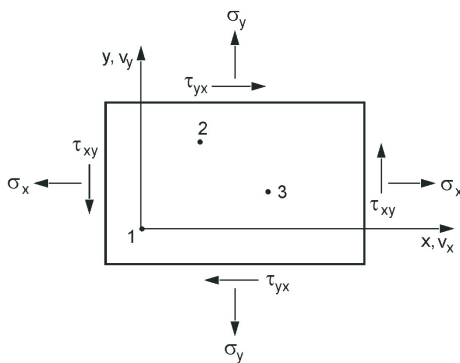


Geg.:  $\sigma_x = 100 \text{ MPa}$   
 $\sigma_y = 80 \text{ MPa}$   
 $\sigma_z = 90 \text{ MPa}$   
 $\tau_{xy} = 0 \text{ MPa}$   
 $\tau_{xz} = 20 \text{ MPa}$   
 $\tau_{yz} = 20 \text{ MPa}$

Ges.: 1. Hauptspannungen  
 2. Richtungen der Hauptspannungen  
 3. Maximale Hauptschubspannung

### Aufgabe 5

Blech mit homogenem ebenem Spannungszustand



Geg.: Koordinaten der Punkte 1,2,3  
 $x_1 = y_1 = 0$   
 $x_2 = 120 \text{ mm}, y_2 = 240 \text{ mm}$   
 $x_3 = 200 \text{ mm}, y_3 = 100 \text{ mm}$   
 Gemessene Verschiebungen

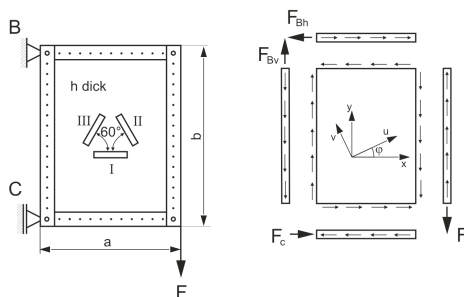
$v_{x1} = 0,15 \text{ mm}, v_{y1} = 0,24 \text{ mm}$   
 $v_{x2} = 0,30 \text{ mm}, v_{y2} = 0,60 \text{ mm}$   
 $v_{x3} = 0,48 \text{ mm}, v_{y3} = 0,36 \text{ mm}$

Materialparameter  
 $E = 2 \cdot 10^5 \text{ MPa}, \nu = 0,3$

Ges.: 1. Verzerrungen im  $x, y$ -Koordinatensystem  
 2. Spannungen im  $x, y$ -Koordinatensystem

### Aufgabe 6

Schubfeldträger aus Randstäben und Blechfeld aus isotropem Material zusammengenietet. Näherungsweise gilt, dass die Randstäbe durch konstante Linienkraftdichten in Längsrichtung und das Blechfeld am Rand durch konstante tangentielle Linienkraftdichten belastet sind.



Geg.:  $a, b, h, E, \nu, F$

Ges.: 1. Auflagerreaktionen  
 2. Spannungszustand  $\sigma_x, \sigma_y, \tau_{xy}$  im Blechfeld einschließlich Hauptspannungen und deren Richtungen  
 3. Dehnungen in den Dehnmessstreifen und Richtungen der Hauptdehnungen (man nutze die Isotropie des Blechmaterials und die Transformationsgleichungen für  $\epsilon$  beim Übergang vom  $x, y$ -Bezugssystem auf das  $u, v$ -Bezugssystem)